

**Примеры заданий итоговой контрольной работы по математике  
для выпускников начальной школы**


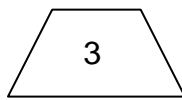
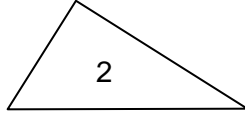
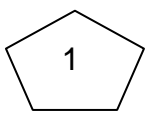
**Обведи кружком номер правильного ответа.**

1) **Наибольшим** числом является:

- 1) 93025      2) 300259      3) 95203      4) 52390

Запиши словами это число \_\_\_\_\_

2) Прямой угол имеют фигуры:



А) 2,4

Б) 1,3

В) 1,4

Г) 1,2

3) Все верные равенства записаны в группе:

1)  $1 \cdot 0 = 0$   
 $238 \cdot 1 = 1$   
 $54 : 0 = 0$

2)  $0 \cdot 1 = 0$   
 $513 \cdot 0 = 0$   
 $0 : 1 = 0$

3)  $64 \cdot 0 = 64$   
 $11 : 0 = 0$   
 $0 \cdot 45 = 0$

4)  $362 \cdot 0 = 0$   
 $1 : 0 = 0$   
 $0 \cdot 67 = 0$

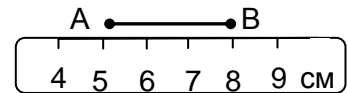
4) Длина отрезка *AB* равна:

1) 3 см

2) 4 см


3) 5 см

4) 8 см



**Реши задачу**

5) У бабушки есть две трехлитровые банки, четыре двухлитровые и 6 пол-литровых банок. Хватит ли ей банок, чтобы разлить 18 литров варенья? Запиши решение.



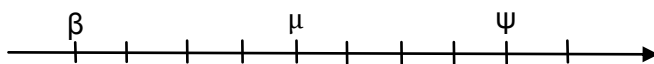
**Дополни**

6) Используя сказочную числовую прямую, допиши знаки сравнения ( $>$ ,  $<$  или  $=$ ) (0 – цифра «ноль», все сказочные числа больше нуля).

$\psi 0 \dots \mu 0$

$\beta \dots \psi$

$\psi \beta \dots \beta \mu$



7) Если частное чисел *a* и *b* увеличить на 7, то получится выражение: \_\_\_\_\_

8) Не производя вычислений, отметь все выражения, имеющие такое же значение, как выражение **267:8**

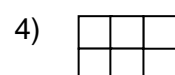
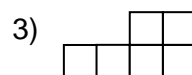
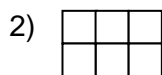
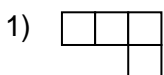
1)  $200:8+67$

2)  $(67+200):8$

3)  $200+67:8$

4)  $67:8+200:8$

9) Обведи номера всех фигур, которые имеют одинаковый **периметр**



10) **Установи соответствие между единицами измерения в первом и втором столбиках (запиши на линейке рядом с каждым номером букву правильного ответа):**

- 1) 20 мм  
2) 20 см  
3) 2 м  
4) 20 дм

- А) 2 дм  
Б) 200 см  
В) 2 см

Ответ: 1) \_\_\_\_ 2) \_\_\_\_ 3) \_\_\_\_ 4) \_\_\_\_

11) Пользуясь таблицей, дополни предложение, ответь на вопросы, запиши решения.

|          | количество страниц |
|----------|--------------------|
| повесть  | 32                 |
| стихи    | 16                 |
| сказки   | 144                |
| рассказы | 96                 |

- 1) Стихи занимают \_\_\_\_\_ страниц.
- 2) На сколько страниц больше занимают сказки, чем повесть? \_\_\_\_\_
- 3) Во сколько раз меньше страниц занимают стихи, чем повесть? \_\_\_\_\_
- 3) Во сколько раз больше страниц в рассказах, чем в стихах и повести вместе? \_\_\_\_\_

12) Расставь скобки так, чтобы значение выражения было верным.

1)  $120 - 40 : 5 \cdot 2 = 116$

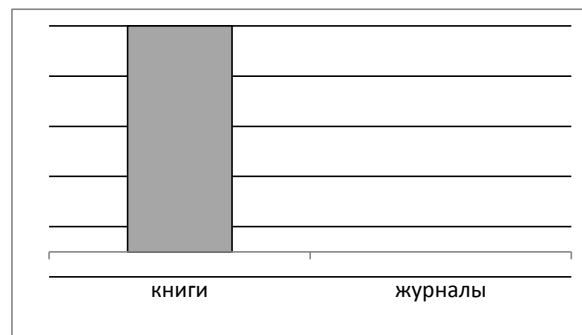
2)  $120 - 40 : 5 \cdot 2 = 224$

13) В библиотеку привезли 45 новых книг, а журналов на 30 меньше, чем книг.

Построй на диаграмме прямоугольник, который показывает количество журналов.

Во сколько раз было больше книг, чем журналов?

\_\_\_\_\_



\_\_\_\_\_